

かず みかん組7

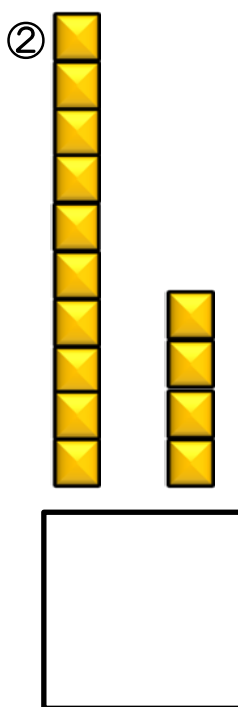

なまえ

--

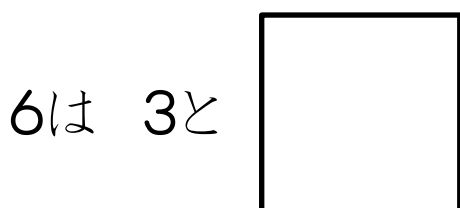
1, すうじの あなうめを しましょう。

2 8				3 2		3 4
-----	--	--	--	-----	--	-----

2, ブロックは、いくつでしょう。



3, 6は いくつといくつでしょう。



4, たしざんを しましょう。

